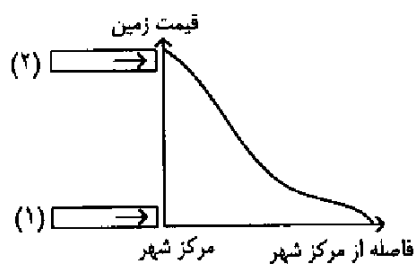

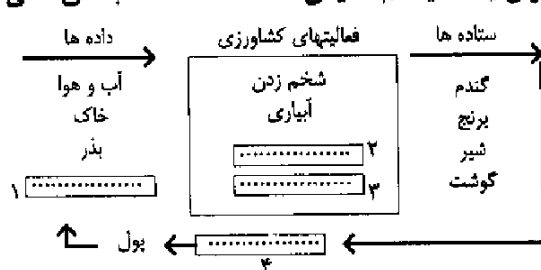


باسمه تعالی

سؤالات امتحان نهایی درس : جغرافیا (۲)		رشته : ادبیات و علوم انسانی	ساعت شروع : ۸ صبح	مدت امتحان : ۹۰ دقیقه
سال سوم نظام جدید آموزش متوسطه		تاریخ امتحان : ۸ / ۳ / ۱۳۸۴		
دانش آموزان و داوطلبان آزاد سراسر کشور در خرداد ماه سال ۱۳۸۴		اداره کل سنجش و ارزشیابی تحصیلی		
ردیف	سؤالات			نمره
۱	در عبارتهای زیر جای خالی را با کلمات مناسب پر کنید : الف- به مجموعه ای از موجودات زنده و محیط فیزیکی غیر زنده ای که با آن در ارتباط اند، ..... می گویند . ب- قاره ی پانگه آ به تدریج به دو قاره ی لوراسیا در شمال و ..... در جنوب تقسیم شد . ج- به پوسته و جبهه بالایی زمین ، ..... می گویند .			۰/۷۵
۲	کوپن بر اساس کدام معیارها نواحی آب و هوایی جهان را تقسیم بندی کرد؟ نام ببرید .			۰/۷۵
۳	در مقابل جمله های صحیح (ص) و جمله های غلط حرف (غ) بگذارید . الف - دین بودایی و برهمنی در محدوده ی قاره ی آسیا و افریقا باقی مانده است. ( ) ب - چرنوبیوم از بهترین خاکهای نواحی معتدل است . ( ) ج - معمولاً سبک معماری و شهر سازی دو ناحیه مجاور به هم شبیه است . ( ) د- قطب شمال از قطب جنوب سردتر است . ( ) ه- ناحیه ی قطبی جنوب را می توان یک قاره نامید . ( )			۱/۲۵
۴	امروزه برای ناحیه بندی از چه روش هایی استفاده می شود؟			۱
۵	هر یک از پدیده های زیر مربوط به کدام نوع از اشکال فرسایشی می باشد؟ الف- دریا بار ( )      ب- تپه های ماسه ای ساحلی ( )      ج- ستون سنگی دریایی ( )			۰/۷۵
۶	کدام عوامل و فعالیتهای انسانی باعث تغییر در چشم اندازهای ساحلی می شوند؟ ( ذکر ۴ مورد کافی است )			۱
۷	سه مورد از جاذبه های گردشگری در محیط های کوهستانی را بنویسید.			۰/۷۵
۸	با توجه به منحنی توپوگرافی مقابل به موارد زیر پاسخ دهید: الف- ارتفاع نقطه M را بنویسید. ب- نیمرخ توپوگرافی را در امتداد خط AB ترسیم نمایید.			۰/۷۵
				
۹	فرآیند فرسایش در سه مرحله سبب کاهش ارتفاع کوهستان ها و تغییر شکل آنها می شود این مراحل را نام ببرید.			۰/۷۵
۱۰	از نظر شکل ظاهری برخان ها دارای چه مشخصاتی هستند؟			۰/۷۵
۱۱	چگونه می توان نواحی بیابانی را بازسازی کرد؟			۰/۵
۱۲	از فناوری های جدید در نواحی گرم و خشک در چه زمینه هایی استفاده می شود؟ ( چهار مورد بنویسید )			۱
۱۳	چرا میزان بارندگی در نواحی قطبی کم است؟ دلیل بیاورید .			۰/۷۵
۱۴	جای خالی را با کلمات مناسب پر کنید . الف- در منطقه ای به نام آکلاویک در کشور ..... اسکیموها به کمک تجهیزات و امکاناتی که دولت در اختیار آن ها قرار داده بود ، شهری زیبا به نام اینوویک ساختند . ب - کلبه های یخی اسکیموها ، ..... نام دارد . ج - به سیستمی که در کنار مزارع ، کارخانه های تبدیل و بسته بندی محصولات پدید آمده است ، ..... می گویند . د - نیروی کار ، سرمایه ، بازار مصرف و ..... از عوامل انسانی مؤثر در مکان یابی صنعتی هستند .			۱
«ادامه ی سؤالات در صفحه ی دوم»				

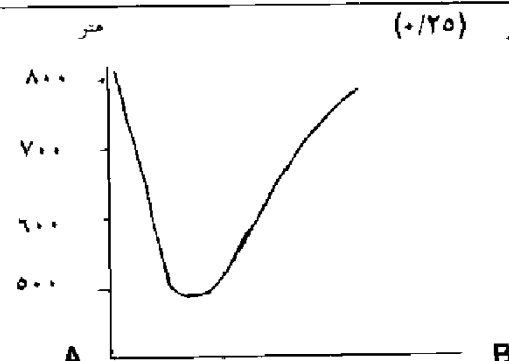
باسمه تعالی

سؤالات امتحان نهایی درس : جغرافیا (۲)		رشته : ادبیات و علوم انسانی	
مدت امتحان : ۹۰ دقیقه		ساعت شروع : ۸ صبح	
سال سوم نظام جدید آموزش متوسطه		تاریخ امتحان : ۸ / ۳ / ۱۳۸۴	
دانش آموزان و داوطلبان آزاد سراسر کشور در خرداد ماه سال ۱۳۸۴		اداره کل سنجش و ارزشیابی تحصیلی	
ردیف	سؤالات		
۱۵	اگر حجم قابل رؤیت یک کوه یخ (آیسبرگ) ۴۰ متر مکعب باشد ، حجم کل آن چقدر است ؟		
۱۶	هر یک از ویژگیهای زیر به کدام نوع سکونتگاه (شهر یا روستا) مربوط است ؟ الف - خدمات و تسهیلات محدود تر است . ( ) ب - کاربری زمین پرتراکم تر و متنوع تر است . ( )		
۱۷	روی نمودار مقابل ، جای خالی را با کلمات مناسب پر کنید . 		
۱۸	سه ویژگی از فعالیت های « بخش غیر رسمی » در شهرها را بنویسید .		
۱۹	علت بوجود آمدن جزیره ی حرارتی بر فراز شهرها چیست؟		
۲۰	نقش عمده هر یک از شهرهای زیر را بنویسید . الف- کمبریج ( )      ب- قم ( )      ج- هنگ کنگ ( )		
۲۱	کدام یک از اشکال زیر بهترین مرز آبی را تشکیل می دهد؟ چرا؟ 		
۲۲	مرزهای تحمیلی چگونه مرزهایی هستند ؟ توضیح دهید.		
۲۳	نوع شکل هر یک از کشورهای زیر را مشخص کنید. الف- شیلی ( )      ب- اندونزی ( )      ج- لهستان ( )      د- تایلند ( )		
۲۴	در تصویر زیر کشاورزی به عنوان یک سیستم نمایش داده شده است . جاهای خالی را با کلمات مناسب پر کنید. 		
۲۵	کشور ایران در کدامیک از اتحادیه ها یا سازمان های اقتصادی عضویت دارد ؟ نام ببرید .		
۲۰	جمع نمره		

(موفق باشید)

باسمه تعالی

راهنمای تصحیح سوالات امتحان نهایی درس : جغرافیا (۲)	رشته : ادبیات و علوم انسانی
سال سوم آموزش متوسطه	تاریخ امتحان : ۸ / ۳ / ۱۳۸۴
دانش آموزان و داوطلبان آزاد سراسر کشور در خرداد ماه سال ۱۳۸۴	اداره کل سنجش و ارزشیابی تحصیلی

ردیف	راهنمای تصحیح
۱	الف- اکوسیستم (۰/۲۵)      ب- گندوانا (۰/۲۵)      ج- لیتوسفر یا سخت کره (۰/۲۵)
۲	دما (۰/۲۵) بارش (۰/۲۵) پوشش گیاهی (۰/۲۵)
۳	الف- غلط (۰/۲۵)      ب- صحیح (۰/۲۵)      ج- غلط (۰/۲۵)      د- غلط (۰/۲۵)      هـ- صحیح (۰/۲۵)
۴	امروزه برای ناحیه بندی از روش های جدید نقشه کشی (۰/۲۵) تفسیر عکس های هوایی (۰/۲۵) سیستم اطلاعات جغرافیایی (۰/۲۵) و بویژه روش های آماری و ریاضی (۰/۲۵) استفاده می شود.
۵	الف- دریا بار (کاوشی) (۰/۲۵)      ب- تپه های ماسه ای (تراکمی) (۰/۲۵)      ج- ستون سنگی دریایی (کاوشی) (۰/۲۵) (به جای لغت کاوشی، حفر مواد و به جای لغت تراکمی، رسوب گذاری مواد نیز صحیح است)
۶	اکتشاف و استخراج نفت (۰/۲۵)      راه سازی (۰/۲۵)      ایجاد بندر (۰/۲۵)      ساخت موج شکن و سدهای دریایی (۰/۲۵) (تعمیق کانال های کشتی رانی و لایروبی بندر و سایر پاسخ های مستدل و منطقی نیز صحیح است)
۷	۱- ورزش های زمستانی مانند اسکی در دامنه ی کوهها (۰/۲۵)      ۲- چشمه های آب گرم (۰/۲۵) ۳- دریاچه های کوهستانی (۰/۲۵)      (سایر موارد مندرج در کتاب یا پاسخ های مستدل و منطقی، صحیح است)
۸	الف- ارتفاع نقطه M ۷۰۰ متر (۰/۲۵) ب-  (۰/۵)
۹	تخریب (۰/۲۵)      حمل (۰/۲۵)      رسوب گذاری (انباشت مواد) (۰/۲۵)
۱۰	هلالی شکل هستند (۰/۲۵) - دو زائده طویل در جهت باد دارند (۰/۲۵) - ارتفاع آنها بین ۱۰ تا ۲۰ متر است (۰/۲۵) (یا ارتفاع زیادی دارند)
۱۱	مدیریت منظم (۰/۲۵)      حفاظت آب (۰/۲۵)      (سایر پاسخ های منطقی، صحیح است)
۱۲	۱- تأمین آب (۰/۲۵)      ۲- کشاورزی (۰/۲۵)      ۳- ارتباطات (۰/۲۵) ۴- گردشگری (۰/۲۵)      ۵- استخراج معادن
۱۳	زیرا بخار آب در جو این نواحی کم است (۰/۲۵) به علت سرما فشار هوا زیاد است (۰/۲۵) و هوای سرد رطوبت کمتری را در خود نگه می دارد. (۰/۲۵)
	«ادامه در صفحه دوم»

باسمه تعالی

رشته : ادبیات و علوم انسانی	راهنمای تصحیح سؤالات امتحان نهایی درس : جغرافیا (۲)
تاریخ امتحان : ۱۳۸۴ / ۳ / ۸	سال سوم آموزش متوسطه
اداره کل سنجش و ارزشیابی تحصیلی	دانش آموزان و داوطلبان آزاد سراسر کشور در خرداد ماه سال ۱۳۸۴

ردیف	راهنمای تصحیح
۱۴	الف - کانادا (۰/۲۵)    ب- ایگلو (۰/۲۵)    ج - کشت و صنعت (۰/۲۵)    د - حمل و نقل (۰/۲۵)
۱۵	(۰/۵)    (۰/۱۰ = ۴۰۰)    یا    (۰/۹ = ۳۶۰)    (۰/۱۰ = ۴۰۰)
۱۶	الف- روستا (۰/۲۵)    ب- شهر (۰/۲۵)
۱۷	۱- کم (۰/۲۵)    ۲- زیاد (۰/۲۵)
۱۸	۱- به مهارت و سواد زیاد نیاز ندارد (۰/۲۵) ۲- جایگاه ثابت و دائمی ندارند (۰/۲۵) ۳- در سطح کوچک و ناحیه ای (اغلب خیابانها) به کار می پردازند (۰/۲۵) (ویا سایر موارد مثلاً: به سرمایه زیاد نیاز ندارند - مهاجران روستایی یا گروههای قومی خارجی اغلب به این بخش روی می آورند - در آمد این فعالیت ثابت نیست و ناچیز است - استفاده از نیروی کار بچه ها معمول است و ...)
۱۹	ناشی از فعالیت های صنعتی (۰/۲۵) ، مصرف سوخت های فسیلی (۰/۲۵) و ساخت و سازهای به هم فشرده ای است (۰/۲۵) که سبب جذب گرما می شوند. (۰/۲۵)
۲۰	الف- دانشگاهی (۰/۲۵)    ب- مذهبی (۰/۲۵)    ج- بندری (یا بازرگانی) (۰/۲۵)
۲۱	شکل الف (۰/۲۵) زیرا خط تالوگ در صورت امکان حق کشتیرانی برای هر دو کشور را فراهم می نماید. (۰/۵) (به جواب منطقی و مستدل نیز نمره تعلق می گیرد)
۲۲	مرزهایی که بدون توجه به سیمای فرهنگی و قومی ناحیه ، (۰/۵) و تنها بر اساس سیاست های بین المللی بوجود آمده اند را مرزهای تحمیلی گویند. (۰/۵)
۲۳	الف- طویل (۰/۲۵)    ب- پاره پاره (۰/۲۵)    ج- فشرده (جمع و جور) (۰/۲۵)    د- دنباله دار (۰/۲۵)
۲۴	۱ - کود (۰/۲۵) (سرمایه ، نیروی انسانی و ابزار و ماشین آلات نیز صحیح است) ۲ - درو کردن (۰/۲۵) ۳ - دامپروری (۰/۲۵) (داشت ، کاشت و برداشت نیز صحیح است) ۴ - بازار (۰/۲۵)
۲۵	اگو (۰/۲۵)    اوپک (۰/۲۵)